


Geometri

Mattespanarna Kap 3

Ht-17 år 6

Catha och Lisa



Formativt arbete med prov Tal, mönster räkning

Lektion 1 v. 39
Problemlösning

Använd dina problemlösningstrategier för att lösa provuppgifterna tillsammans.

1. **E:** Sätt dig in i problemet
2. **P:** Jobba i par/treor
3. **A.** Redovisa lösningar i helklass
4. Ny läxa (limma in och ta hem)

Välj strategi!

Steg för steg

Gissa och pröva

Rita en bild

Arbeta bakifrån

Sätta upp en tabell

Läxa till måndag v 40:
Milkshake, se mailen

Geometriska kroppar

Lektion 2 v. 39
Genomgång

Börja med:

1. Skriv namnet på 2-10 geometriska former.
2. Rita dina former.

Film:

<https://www.youtube.com/watch?v=xBqJc7qBelo>

Kap 3 s. 76-77

Geometriska kroppar

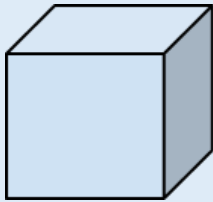
Lektion 3 v. 39
Genomgång

- Börja med:
 - Skriv namnet på 2-5 tredimensionella figurer.
 - Beskriv dina figurer.

Arbetsblad: Jämför
geometriska figurer
Kap 3 s. 76-77
Arbetsblad: geometrihäfte

Geometriska kroppar

Lektion 3 v. 39
Genomgång



Namn:	Bild:	Antal kanter	Antal hörn	Antal sidytor	Form på basytan	Form på sidytor
						

Arbetsblad: Jämför
geometriska figurer
Kap 3 s. 76-77
Arbetsblad: geometrihäfte

Likformighet och skala

Lektion 2 v. 40
Genomgång

- Börja med: Para ihop de figurer som är lika.



Kap 3 s. 80-81

Likformighet och skala

Lektion 2 v. 40
Genomgång

Begrepp:

- Likformighet
- Skala
- Förhållande

Film

Om skala:

<https://www.youtube.com/watch?v=TtI7wJKV60A>

om likformighet:

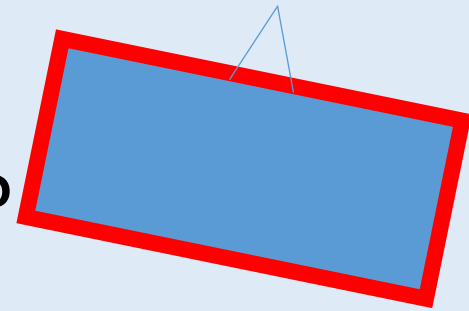
<https://www.youtube.com/watch?v=oEWfxKuk7zw>

Kap 3 s. 80-81
Bingeluppdrag:

Geometriska problem

Lektion 3 v. 40

- Börja med:
- a) Vilken färg har arean?
- b) Vilken färg har omkretsen?



Lös så långt du kan!

- c) En tavla har omkretsen 20 dm och arean 24 dm². Vilka mått har den?

Visa din lösning!

Kap 3 s. 82-83